

Ассоциация научно-технических организаций "Уральский профессиональный форум"
Автономная некоммерческая профессиональная образовательная организация
"Современный цифровой колледж при Западно-уральском институте экономики и права"
(АНПОО "СЦК при ЗУИЭП")

Рекомендовано к утверждению
на заседании Педагогического совета
АНПОО "СЦК при ЗУИЭП"
(протокол № 4 от 21.07.2022)



/Лобанова И.И.

**ОЦЕНОЧНЫЕ СРЕДСТВА
ДЛЯ ПРОВЕДЕНИЯ ПРОМЕЖУТОЧНОЙ АТТЕСТАЦИИ
по предмету**

«БД.02 МАТЕМАТИКА»

по специальности
40.02.03 Право и судебное администрирование
квалификация «Специалист по судебному администрированию»

форма обучения: очно-заочная

Пермь, 2022

1. Паспорт комплекта оценочных средств

Предметом оценки на экзамене являются следующие результаты:

- свободно оперировать понятиями: рациональное число, бесконечная периодическая дробь, проценты, иррациональное число, множества рациональных и действительных чисел, модуль действительного числа; применять дроби и проценты для решения прикладных задач из различных отраслей знаний и реальной жизни; применять приближенные вычисления, правила округления, прикидку и оценку результата вычислений; свободно оперировать понятием: степень с целым показателем, использовать подходящую форму записи действительных чисел для решения практических задач и представления данных; свободно оперировать понятием: арифметический корень натуральной степени; свободно оперировать понятием: степень с рациональным показателем; свободно оперировать понятиями: логарифм числа, десятичные и натуральные логарифмы; свободно оперировать понятиями: синус, косинус, тангенс, котангенс числового аргумента; оперировать понятиями: арксинус, арккосинус и арктангенс числового аргумента. свободно оперировать понятиями: натуральное и целое число, множества натуральных и целых чисел, использовать признаки делимости целых чисел, НОД и НОК натуральных чисел для решения задач, применять алгоритм Евклида свободно оперировать понятием остатка по модулю, записывать натуральные числа в различных позиционных системах счисления; свободно оперировать понятиями: комплексное число и множество комплексных чисел, представлять комплексные числа в алгебраической и тригонометрической форме, выполнять арифметические операции с ними и изображать на координатной плоскости;

- свободно оперировать понятиями: тождество, уравнение, неравенство, равносильные уравнения и уравнения-следствия, равносильные неравенства; применять различные методы решения рациональных и дробно-рациональных уравнений, применять метод интервалов для решения неравенств; свободно оперировать понятиями: многочлен от одной переменной, многочлен с целыми коэффициентами, корни многочлена, применять деление многочлена на многочлен с остатком, теорему Безу и теорему Виета для решения задач; свободно оперировать понятиями: система линейных уравнений, матрица, определитель матрицы 2×2 и его геометрический смысл, использовать свойства определителя 2×2 для вычисления его значения, применять определители для решения системы линейных уравнений, моделировать реальные ситуации с помощью системы линейных уравнений, исследовать построенные модели с помощью матриц и определителей, интерпретировать полученный результат; использовать свойства действий с корнями для преобразования выражений; выполнять преобразования числовых выражений, содержащих степени с рациональным показателем; использовать свойства логарифмов для преобразования логарифмических выражений; свободно оперировать понятиями: иррациональные, показательные и логарифмические уравнения, находить их решения с помощью равносильных переходов или осуществляя проверку корней; применять основные тригонометрические формулы для преобразования тригонометрических выражений; свободно оперировать понятием: тригонометрическое уравнение, применять необходимые формулы для решения основных типов тригонометрических уравнений; моделировать реальные ситуации на языке алгебры, составлять выражения, уравнения, неравенства по условию задачи, исследовать построенные модели с использованием аппарата алгебры. свободно оперировать понятиями: иррациональные, показательные и логарифмические

неравенства, находить их решения с помощью равносильных переходов; осуществлять отбор корней при решении тригонометрического уравнения; свободно оперировать понятием тригонометрическое неравенство, применять необходимые формулы для решения основных типов тригонометрических неравенств; свободно оперировать понятиями: система и совокупность уравнений и неравенств, равносильные системы и системы-следствия, находить решения системы и совокупностей рациональных, иррациональных, показательных и логарифмических уравнений и неравенств; решать рациональные, иррациональные, показательные, логарифмические и тригонометрические уравнения и неравенства, содержащие модули и параметры; применять графические методы для решения уравнений и неравенств, а также задач с параметрами; моделировать реальные ситуации на языке алгебры, составлять выражения, уравнения, неравенства и их системы по условию задачи, исследовать построенные модели с использованием аппарата алгебры, интерпретировать полученный результат;

- свободно оперировать понятиями: функция, способы задания функции, взаимно обратные функции, композиция функций, график функции, выполнять элементарные преобразования графиков функций; свободно оперировать понятиями: область определения и множество значений функции, нули функции, промежутки знакопостоянства свободно оперировать понятиями: четные и нечетные функции, периодические функции, промежутки монотонности функции, максимумы и минимумы функции, наибольшее и наименьшее значение функции на промежутке; свободно оперировать понятиями: степенная функция с натуральным и целым показателем, график степенной функции с натуральным и целым показателем, график корня n -ой степени как функции обратной степени с натуральным показателем; оперировать понятиями: линейная, квадратичная и дробно-линейная функции, выполнять элементарное исследование и построение их графиков; свободно оперировать понятиями: показательная и логарифмическая функции, их свойства и графики, использовать их графики для решения уравнений; свободно оперировать понятиями: тригонометрическая окружность, определение тригонометрических функций числового аргумента; использовать графики функций для исследования процессов и зависимостей при решении задач из других учебных предметов и реальной жизни, выражать формулами зависимости между величинами; строить графики композиции функций с помощью элементарного исследования и свойств композиции двух функций; строить геометрические образы уравнений и неравенств на координатной плоскости; свободно оперировать понятиями: графики тригонометрических функций; применять функции для моделирования и исследования реальных процессов;

- свободно оперировать понятиями: арифметическая и геометрическая прогрессия, бесконечно убывающая геометрическая прогрессия, линейный и экспоненциальный рост, формула сложных процентов, иметь представление о константе; использовать прогрессии для решения реальных задач прикладного характера; свободно оперировать понятиями: последовательность, способы задания последовательностей, монотонные и ограниченные последовательности, понимать основы зарождения математического анализа как анализа бесконечно малых; свободно оперировать понятиями: непрерывные функции, точки разрыва графика функции, асимптоты графика функции; свободно оперировать понятием: функция, непрерывная на отрезке, применять свойства непрерывных функций для решения задач; свободно оперировать понятиями: первая и вторая производные функции, касательная к графику функции; вычислять производные суммы, произведения, частного и композиции

двух функций, знать производные элементарных функций; использовать геометрический и физический смысл производной для решения задач. использовать производную для исследования функции на монотонность и экстремумы; находить наибольшее и наименьшее значения функции непрерывной на отрезке; использовать производную для нахождения наилучшего решения в прикладных, в том числе социально-экономических, задачах, для определения скорости и ускорения процесса, заданного формулой или графиком; свободно оперировать понятиями: первообразная, определенный интеграл, находить первообразные элементарных функций и вычислять интеграл по формуле Ньютона-Лейбница; находить площади плоских фигур и объемы тел с помощью интеграла; иметь представление о математическом моделировании на примере составления дифференциальных уравнений; решать прикладные задачи, в том числе социально-экономического и физического характера, средствами математического анализа;

- свободно оперировать понятиями: множество, операции над множествами; использовать теоретико-множественный аппарат для описания реальных процессов и явлений, при решении задач из других учебных предметов; свободно оперировать понятиями: определение, теорема, уравнение - следствие, свойство математического объекта, доказательство, равносильные уравнения и неравенства;

- свободно оперировать основными понятиями стереометрии при решении задач и проведении математических рассуждений; применять аксиомы стереометрии и следствия из них при решении геометрических задач; классифицировать взаимное расположение прямых в пространстве, плоскостей в пространстве, прямых и плоскостей в пространстве; свободно оперировать понятиями, связанными с углами в пространстве: между прямыми в пространстве, между прямой и плоскостью; свободно оперировать понятиями, связанными с многогранниками; свободно распознавать основные виды многогранников (призма, пирамида, прямоугольный параллелепипед, куб); классифицировать многогранники, выбирая основания для классификации; свободно оперировать понятиями, связанными с сечением многогранников плоскостью; выполнять параллельное, центральное и ортогональное проектирование фигур на плоскость, выполнять изображения фигур на плоскости; строить сечения многогранников различными методами, выполнять (выносные) плоские чертежи из рисунков простых объемных фигур: вид сверху, сбоку, снизу; вычислять площади поверхностей многогранников (призма, пирамида), геометрических тел с применением формул; свободно оперировать понятиями: симметрия в пространстве, центр, ось и плоскость симметрии, центр, ось и плоскость симметрии фигуры; свободно оперировать понятиями, соответствующими векторам и координатам в пространстве; выполнять действия над векторами; решать задачи на доказательство математических отношений и нахождение геометрических величин, применяя известные методы при решении математических задач повышенного и высокого уровня сложности; применять простейшие программные средства и электронно-коммуникационные системы при решении стереометрических задач; извлекать, преобразовывать и интерпретировать информацию о пространственных геометрических фигурах, представленную на чертежах и рисунках; применять полученные знания на практике: сравнивать и анализировать реальные ситуации, применять изученные понятия в процессе поиска решения математически сформулированной проблемы, моделировать реальные ситуации на языке геометрии, исследовать построенные модели с использованием геометрических понятий и теорем, аппарата алгебры, решать практические задачи, связанные с нахождением геометрических

величин; иметь представления об основных этапах развития геометрии как составной части фундамента развития технологий. свободно оперировать понятиями, связанными с цилиндрической, конической и сферической поверхностями, объяснять способы получения; оперировать понятиями, связанными с телами вращения: цилиндром, конусом, сферой и шаром; распознавать тела вращения (цилиндр, конус, сфера и шар) и объяснять способы получения тел вращения; классифицировать взаимное расположение сферы и плоскости; вычислять величины элементов многогранников и тел вращения, объемы и площади поверхностей многогранников и тел вращения, геометрических тел с применением формул; свободно оперировать понятиями, связанными с комбинациями тел вращения и многогранников: многогранник, вписанный в сферу и описанный около сферы, сфера, вписанная в многогранник или тело вращения, вычислять соотношения между площадями поверхностей и объемами подобных тел; изображать изучаемые фигуры, выполнять (выносные) плоские чертежи из рисунков простых объемных фигур: вид сверху, сбоку, снизу, строить сечения тел вращения; извлекать, интерпретировать и преобразовывать информацию о пространственных геометрических фигурах, представленную на чертежах и рисунках; свободно оперировать понятием вектор в пространстве; выполнять операции над векторами; задавать плоскость уравнением в декартовой системе координат; решать геометрические задачи на вычисление углов между прямыми и плоскостями, вычисление расстояний от точки до плоскости, в целом, на применение векторно-координатного метода при решении; свободно оперировать понятиями, связанными с движением в пространстве, знать свойства движений; выполнять изображения многогранником и тел вращения при параллельном переносе, центральной симметрии, зеркальной симметрии, при повороте вокруг прямой, преобразования подобия; строить сечения многогранников и тел вращения: сечения цилиндра (параллельно и перпендикулярно оси), сечения конуса (параллельное основанию и проходящее через вершину), сечения шара; использовать методы построения сечений: метод следов, метод внутреннего проектирования, метод переноса секущей плоскости; доказывать геометрические утверждения; применять геометрические факты для решения стереометрических задач, предполагающих несколько шагов решения, если условия применения заданы в явной и неявной форме; решать задачи на доказательство математических отношений и нахождение геометрических величин; применять программные средства и электронно-коммуникационные системы при решении стереометрических задач; применять полученные знания на практике: сравнивать, анализировать и оценивать реальные ситуации, применять изученные понятия, теоремы, свойства в процессе поиска решения математически сформулированной проблемы, моделировать реальные ситуации на языке геометрии, исследовать построенные модели с использованием геометрических понятий и теорем, аппарата алгебры, решать практические задачи, связанные с нахождением геометрических величин; иметь представления об основных этапах развития геометрии как составной части фундамента развития технологий;

- свободно оперировать понятиями: граф, плоский граф, связный граф, путь в графе, цепь, цикл, дерево, степень вершины, дерево случайного эксперимента; свободно оперировать понятиями: случайный эксперимент (опыт), случайное событие, элементарное случайное событие (элементарный исход) случайного опыта, находить вероятности событий в опытах с равновозможными элементарными событиями; находить и формулировать события: пересечение, объединение данных событий, событие, противоположное данному, использовать диаграммы Эйлера, координатную прямую для решения задач, пользоваться

формулой сложения вероятностей для вероятностей двух и трех случайных событий; оперировать понятиями: условная вероятность, умножение вероятностей, независимые события, дерево случайного эксперимента, находить вероятности событий с помощью правила умножения, дерева случайного опыта, использовать формулу полной вероятности, формулу Байеса при решении задач, определять независимость событий по формуле и по организации случайного эксперимента; применять изученные комбинаторные формулы для перечисления элементов множеств, элементарных событий случайного опыта, решения задач по теории вероятностей свободно оперировать понятиями: бинарный случайный опыт (испытание), успех и неудача, независимые испытания, серия испытаний, находить вероятности событий: в серии испытаний до первого успеха, в серии испытаний Бернулли, в опыте, связанном со случайным выбором из конечной совокупности; свободно оперировать понятиями: случайная величина, распределение вероятностей, диаграмма распределения, бинарная случайная величина, геометрическое, биномиальное распределение. оперировать понятиями: совместное распределение двух случайных величин, использовать таблицу совместного распределения двух случайных величин для выделения распределения каждой величины, определения независимости случайных величин; свободно оперировать понятием математического ожидания случайной величины (распределения), применять свойства математического ожидания при решении задач, вычислять математическое ожидание биномиального и геометрического распределений; свободно оперировать понятиями: дисперсия, стандартное отклонение случайной величины, применять свойства дисперсии случайной величины (распределения) при решении задач, вычислять дисперсию и стандартное отклонение геометрического и биномиального распределений; вычислять выборочные характеристики по данной выборке и оценивать характеристики генеральной совокупности данных по выборочным характеристикам; оценивать вероятности событий и проверять простейшие статистические гипотезы, пользуясь изученными распределениями.

Контроль и оценка на экзамене осуществляются с использованием стандартизированных контрольно-измерительных материалов (КИМ), представленных в форме тестовых заданий, соответствующих материалам ЕГЭ.

По итогам тестирования выставляется оценка по шкале: «отлично», «хорошо», «удовлетворительно», «неудовлетворительно» в соответствии со шкалой перевода:

Критерии оценки:

Процент результативности (правильных ответов)	Количество правильных ответов на вопросы теста	Оценка уровня подготовки	
		балл (отметка)	вербальный аналог
76 - 100	76 - 100	5	отлично
66 - 75	66 - 75	4	хорошо
50 - 65	50 - 65	3	удовлетворительно
Менее 50	Менее 50	2	неудовлетворительно

Оценочные средства предназначены для контроля и оценки результатов обучения студентов, освоивших программу учебного предмета «Математика» и разработаны на основании рабочей программы предмета.

2. КОМПЛЕКТ КОНТРОЛЬНО - ИЗМЕРИТЕЛЬНЫХ МАТЕРИАЛОВ ДЛЯ ОЦЕНКИ ОСВОЕНИЯ УЧЕБНОГО ПРЕДМЕТА

Единый государственный экзамен по МАТЕМАТИКЕ

Базовый уровень

Инструкция по выполнению работы

Экзаменационная работа включает в себя 20 заданий.

На выполнение работы отводится 3 часа (180 минут).

Ответы к заданиям записываются по приведённым ниже образцам в виде числа или последовательности цифр. Сначала запишите ответы к заданиям в поле ответа в тексте работы, а затем перенесите их в бланк ответов № 1 справа от номера соответствующего задания.

КИМ Ответ: -0,6.

-	0	,	6																
---	---	---	---	--	--	--	--	--	--	--	--	--	--	--	--	--	--	--	--

Бланк

Если ответом является последовательность цифр, как в приведённом ниже примере, то запишите эту последовательность в бланк ответов № 1 без пробелов, запятых и других дополнительных символов.

КИМ

А	Б	В	Г
4	3	1	2

Ответ:

4	3	1	2																
---	---	---	---	--	--	--	--	--	--	--	--	--	--	--	--	--	--	--	--

Бланк

Все бланки ЕГЭ заполняются яркими чёрными чернилами. Допускается использование гелевой или капиллярной ручки.

При выполнении заданий можно пользоваться черновиком. **Записи в черновике, а также в тексте контрольных измерительных материалов не учитываются при оценивании работы.**

Баллы, полученные Вами за выполненные задания, суммируются. Постарайтесь выполнить как можно больше заданий и набрать наибольшее количество баллов.

После завершения работы проверьте, чтобы ответ на каждое задание в бланке ответов № 1 был записан под правильным номером.

Желаем успеха!

Ответом к каждому заданию является конечная десятичная дробь, или целое число, или последовательность цифр. Ответ сначала запишите в поле ответа в тексте работы, а затем перенесите в БЛАНК ОТВЕТОВ № 1 справа от номера соответствующего задания. Каждую цифру, знак «минус» и запятую пишите в отдельной клеточке в соответствии с приведёнными в бланке образцами. Единицы измерений писать не нужно.

1 Найдите значение выражения $\frac{26}{5} \cdot \frac{13}{45} \cdot \frac{7}{9}$.

Ответ: _____.

2 Найдите значение выражения $\frac{12^{12}}{2^{14} \cdot 6^{11}}$.

Ответ: _____.

3 Число хвойных деревьев в парке относится к числу лиственных как 17 : 33. Других деревьев в парке нет. Сколько процентов деревьев в парке составляют лиственные?

Ответ: _____.

4 Радиус окружности, описанной около треугольника, можно вычислить по формуле $R = \frac{a}{2 \sin \alpha}$, где a — сторона, а α — противолежащий ей угол треугольника. Пользуясь этой формулой, найдите радиус R , если $a = 10$ и $\sin \alpha = \frac{1}{3}$.

Ответ: _____.

5 Найдите значение выражения $\frac{3}{2} \sqrt{20} \cdot \sqrt{5}$.

Ответ: _____.

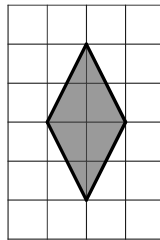
- 6 Стоимость проездного билета на месяц составляет 650 рублей, а стоимость билета на одну поездку — 28 рублей. Аня купила проездной и сделала за месяц 45 поездок. На сколько рублей больше она бы потратила, если бы покупала билеты на одну поездку?

Ответ: _____.

- 7 Решите уравнение $x^2 - 5x = 0$.
Если уравнение имеет более одного корня, в ответе укажите больший из них.

Ответ: _____.

- 8 План местности разбит на клетки. Каждая клетка обозначает квадрат $1\text{ м} \times 1\text{ м}$. Найдите площадь участка, выделенного на плане. Ответ дайте в квадратных метрах.



Ответ: _____.

- 9 Установите соответствие между величинами и их возможными значениями: к каждому элементу первого столбца подберите соответствующий элемент из второго столбца.

ВЕЛИЧИНЫ	ЗНАЧЕНИЯ
А) объём бытового холодильника	1) 120 м^3
Б) объём железнодорожного вагона	2) 1,5 л
В) объём пакета сока	3) 908 км^3
Г) объём воды в Ладожском озере	4) 300 л

В таблице под каждой буквой, соответствующей величине, укажите номер её возможного значения.

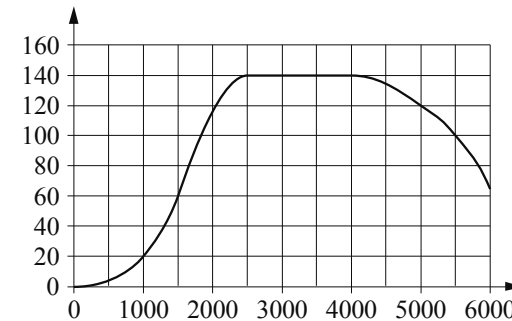
Ответ:

А	Б	В	Г

- 10 На чемпионате по прыжкам в воду выступают 25 спортсменов, среди них 6 прыгунов из России и 8 прыгунов из Китая. Порядок выступлений определяется жеребьёвкой. Найдите вероятность того, что первым будет выступать прыгун из Китая.

Ответ: _____.

- 11 На графике показана зависимость крутящего момента автомобильного двигателя от числа оборотов в минуту. На горизонтальной оси отмечено число оборотов в минуту, на вертикальной оси — крутящий момент в $\text{Н} \cdot \text{м}$. Чтобы автомобиль начал движение, крутящий момент должен быть не менее $20\text{ Н} \cdot \text{м}$.



Определите по графику, какого наименьшего числа оборотов двигателя в минуту достаточно, чтобы автомобиль начал движение.

Ответ: _____.

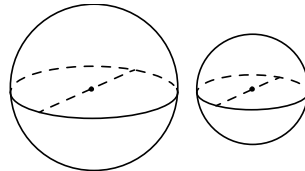
- 12** Алексей хочет купить пылесос в магазине, который находится не дальше 1,6 км от его дома. В таблице показано 6 предложений от разных магазинов и их удалённость от дома Алексея.

Номер магазина	Стоимость пылесоса (руб.)	Удалённость от дома Алексея (км)
1	5499	1,7
2	5450	2,8
3	4890	2,2
4	5299	1,1
5	4990	2,5
6	6350	0,5

Найдите наименьшую стоимость пылесоса в магазинах (из представленных), удовлетворяющих данному условию. Ответ дайте в рублях.

Ответ: _____.

- 13** Однородный шар диаметром 6 см весит 432 грамма. Сколько граммов весит шар диаметром 4 см, изготовленный из того же материала?



Ответ: _____.

- 14** Установите соответствие между функциями и характеристиками этих функций на отрезке $[1;5]$.

ФУНКЦИИ

- А) $y = 4x - 6$
 Б) $y = -3x + 6$
 В) $y = 2x^2 - 7x + 7$
 Г) $y = -x^2 + 4x - 5$

ХАРАКТЕРИСТИКИ

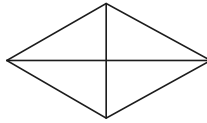
- 1) функция убывает на отрезке $[1;5]$
 2) функция принимает отрицательное значение в каждой точке отрезка $[1;5]$
 3) функция принимает положительное значение в каждой точке отрезка $[1;5]$
 4) функция возрастает на отрезке $[1;5]$

В таблице под каждой буквой укажите соответствующий номер.

Ответ:

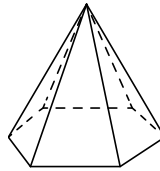
А	Б	В	Г

- 15 Сумма двух углов ромба равна 120° , а его периметр равен 84. Найдите длину меньшей диагонали ромба.



Ответ: _____.

- 16 Сторона основания правильной шестиугольной пирамиды равна 14, боковое ребро равно 25. Найдите площадь боковой поверхности этой пирамиды.



Ответ: _____.

- 17 Число m равно $\log_2 5$.

Каждому из четырёх чисел в левом столбце соответствует отрезок, которому оно принадлежит. Установите соответствие между числами и отрезками из правого столбца.

ЧИСЛА

- А) $\frac{6}{m}$
 Б) m^2
 В) $m - 2$
 Г) $4 - m$

ОТРЕЗКИ

- 1) $[0; 1]$
 2) $[1; 2]$
 3) $[2; 3]$
 4) $[4; 6]$

Впишите в приведённую в ответе таблицу под каждой буквой соответствующий номер отрезка.

Ответ:

А	Б	В	Г

- 18 Марусе на день рождения подарили 20 шариков, из которых 13 красные, а остальные синие. Маруся на четырёх случайных шариках нарисовала рисунки маркером, чтобы подарить маме, папе, брату и сестре. Выберите все утверждения, которые будут верны при указанных условиях независимо от того, на каких шариках Маруся нарисовала рисунки.

- 1) Найдётся 2 синих шарика без рисунков.
- 2) Если шарик красный, то на нём есть рисунок.
- 3) Найдётся 4 красных шарика с рисунками.
- 4) Не найдётся 5 синих шариков с рисунками.

В ответе запишите номера выбранных утверждений без пробелов, запятых и других дополнительных символов.

Ответ: _____.

- 19 Найдите трёхзначное натуральное число, кратное 60, все цифры которого различны, а сумма квадратов цифр делится на 5, но не делится на 25. В ответе укажите какое-нибудь одно такое число.

Ответ: _____.

- 20 На ленте по разные стороны от её середины отмечены две тонкие поперечные полоски: синяя и красная. Если разрезать ленту по красной полоске, то одна часть будет на 25 см длиннее другой. Если разрезать ленту по синей полоске, то одна часть будет на 5 см длиннее другой. Найдите расстояние (в сантиметрах) между красной и синей полосками.

Ответ: _____.



Не забудьте перенести все ответы в бланк ответов № 1 в соответствии с инструкцией по выполнению работы. Проверьте, чтобы каждый ответ был записан в строке с номером соответствующего задания.

Единый государственный экзамен по МАТЕМАТИКЕ

Базовый уровень

Справочные материалы

Алгебра

Таблица квадратов целых чисел от 0 до 99

Десятки	Единицы									
	0	1	2	3	4	5	6	7	8	9
0	0	1	4	9	16	25	36	49	64	81
1	100	121	144	169	196	225	256	289	324	361
2	400	441	484	529	576	625	676	729	784	841
3	900	961	1024	1089	1156	1225	1296	1369	1444	1521
4	1600	1681	1764	1849	1936	2025	2116	2209	2304	2401
5	2500	2601	2704	2809	2916	3025	3136	3249	3364	3481
6	3600	3721	3844	3969	4096	4225	4356	4489	4624	4761
7	4900	5041	5184	5329	5476	5625	5776	5929	6084	6241
8	6400	6561	6724	6889	7056	7225	7396	7569	7744	7921
9	8100	8281	8464	8649	8836	9025	9216	9409	9604	9801

Свойства арифметического квадратного корня

$$\sqrt{ab} = \sqrt{a} \cdot \sqrt{b} \text{ при } a \geq 0, b \geq 0 \quad \sqrt{\frac{a}{b}} = \frac{\sqrt{a}}{\sqrt{b}} \text{ при } a \geq 0, b > 0$$

Корни квадратного уравнения $ax^2 + bx + c = 0, a \neq 0$

$$x_1 = \frac{-b - \sqrt{b^2 - 4ac}}{2a}, \quad x_2 = \frac{-b + \sqrt{b^2 - 4ac}}{2a} \text{ при } b^2 - 4ac > 0$$

$$x = -\frac{b}{2a} \text{ при } b^2 - 4ac = 0$$

Формулы сокращённого умножения

$$(a + b)^2 = a^2 + 2ab + b^2$$

$$(a - b)^2 = a^2 - 2ab + b^2$$

$$a^2 - b^2 = (a + b)(a - b)$$

Степень и логарифм

Свойства степени при $a > 0, b > 0$

$$a^{-n} = \frac{1}{a^n}$$

$$a^n \cdot a^m = a^{n+m}$$

$$\frac{a^n}{a^m} = a^{n-m}$$

$$(a^n)^m = a^{nm}$$

$$(ab)^n = a^n \cdot b^n$$

$$\left(\frac{a}{b}\right)^n = \frac{a^n}{b^n}$$

Свойства логарифма при $a > 0, a \neq 1, b > 0, x > 0, y > 0$

$$a^{\log_a b} = b$$

$$\log_a a = 1$$

$$\log_a 1 = 0$$

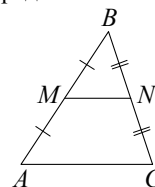
$$\log_a (xy) = \log_a x + \log_a y$$

$$\log_a \left(\frac{x}{y}\right) = \log_a x - \log_a y$$

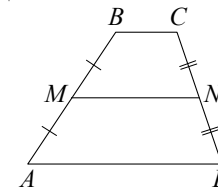
$$\log_a b^k = k \log_a b$$

Геометрия

Средняя линия треугольника и трапеции

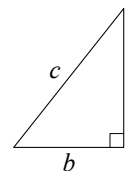


MN — ср. лин.
 $MN \parallel AC$
 $MN = \frac{AC}{2}$



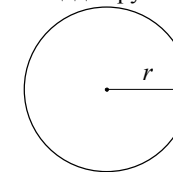
$BC \parallel AD$
 MN — ср. лин.
 $MN \parallel AD$
 $MN = \frac{BC + AD}{2}$

Теорема Пифагора

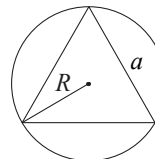


$$a^2 + b^2 = c^2$$

Длина окружности $C = 2\pi r$
 Площадь круга $S = \pi r^2$

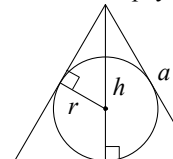


Описанная и вписанная окружности правильного треугольника



$$R = \frac{a\sqrt{3}}{3}$$

$$S = \frac{a^2\sqrt{3}}{4}$$

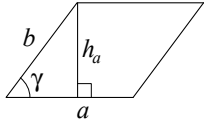


$$r = \frac{a\sqrt{3}}{6}$$

$$h = \frac{a\sqrt{3}}{2}$$

Площади фигур

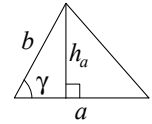
Параллелограмм



$$S = ah_a$$

$$S = ab \sin \gamma$$

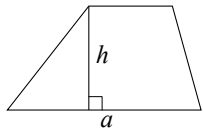
Треугольник



$$S = \frac{1}{2} ah_a$$

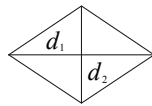
$$S = \frac{1}{2} ab \sin \gamma$$

Трапеция



$$S = \frac{a+b}{2} \cdot h$$

Ромб

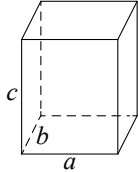


d_1, d_2 – диагонали

$$S = \frac{1}{2} d_1 d_2$$

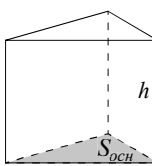
Площади поверхностей и объёмы тел

Прямоугольный параллелепипед



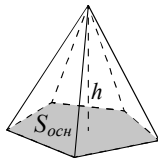
$$V = abc$$

Прямая призма



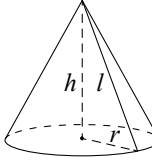
$$V = S_{осн} h$$

Пирамида



$$V = \frac{1}{3} S_{осн} h$$

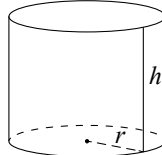
Конус



$$V = \frac{1}{3} \pi r^2 h$$

$$S_{бок} = \pi r l$$

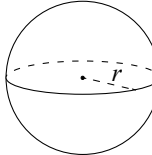
Цилиндр



$$V = \pi r^2 h$$

$$S_{бок} = 2\pi r h$$

Шар

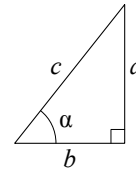


$$V = \frac{4}{3} \pi r^3$$

$$S = 4\pi r^2$$

Тригонометрические функции

Прямоугольный треугольник

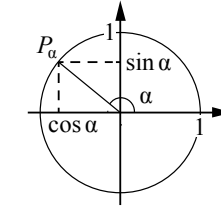


$$\sin \alpha = \frac{a}{c}$$

$$\cos \alpha = \frac{b}{c}$$

$$\operatorname{tg} \alpha = \frac{a}{b}$$

Тригонометрическая окружность



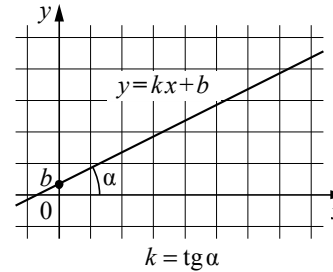
Основное тригонометрическое тождество: $\sin^2 \alpha + \cos^2 \alpha = 1$

Некоторые значения тригонометрических функций

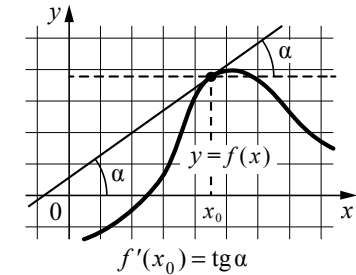
α	радианы	0	$\frac{\pi}{6}$	$\frac{\pi}{4}$	$\frac{\pi}{3}$	$\frac{\pi}{2}$	π	$\frac{3\pi}{2}$	2π
	градусы	0°	30°	45°	60°	90°	180°	270°	360°
$\sin \alpha$		0	$\frac{1}{2}$	$\frac{\sqrt{2}}{2}$	$\frac{\sqrt{3}}{2}$	1	0	-1	0
$\cos \alpha$		1	$\frac{\sqrt{3}}{2}$	$\frac{\sqrt{2}}{2}$	$\frac{1}{2}$	0	-1	0	1
$\operatorname{tg} \alpha$		0	$\frac{\sqrt{3}}{3}$	1	$\sqrt{3}$	—	0	—	0

Функции

Линейная функция



Геометрический смысл производной



Единый государственный экзамен по МАТЕМАТИКЕ

Базовый уровень

Инструкция по выполнению работы

Экзаменационная работа включает в себя 20 заданий.

На выполнение работы отводится 3 часа (180 минут).

Ответы к заданиям записываются по приведённым ниже образцам в виде числа или последовательности цифр. Сначала запишите ответы к заданиям в поле ответа в тексте работы, а затем перенесите их в бланк ответов № 1 справа от номера соответствующего задания.

КИМ Ответ: -0,6.

-	0	,	6																	
---	---	---	---	--	--	--	--	--	--	--	--	--	--	--	--	--	--	--	--	--

Бланк

Если ответом является последовательность цифр, как в приведённом ниже примере, то запишите эту последовательность в бланк ответов № 1 без пробелов, запятых и других дополнительных символов.

КИМ

Ответ:

А	Б	В	Г
4	3	1	2

4	3	1	2																	
---	---	---	---	--	--	--	--	--	--	--	--	--	--	--	--	--	--	--	--	--

Бланк

Все бланки ЕГЭ заполняются яркими чёрными чернилами. Допускается использование гелевой или капиллярной ручки.

При выполнении заданий можно пользоваться черновиком. **Записи в черновике, а также в тексте контрольных измерительных материалов не учитываются при оценивании работы.**

Баллы, полученные Вами за выполненные задания, суммируются. Постарайтесь выполнить как можно больше заданий и набрать наибольшее количество баллов.

После завершения работы проверьте, чтобы ответ на каждое задание в бланке ответов № 1 был записан под правильным номером.

Желаем успеха!

Ответом к каждому заданию является конечная десятичная дробь, или целое число, или последовательность цифр. Ответ сначала запишите в поле ответа в тексте работы, а затем перенесите в БЛАНК ОТВЕТОВ № 1 справа от номера соответствующего задания. Каждую цифру, знак «минус» и запятую пишите в отдельной клеточке в соответствии с приведёнными в бланке образцами. Единицы измерений писать не нужно.

1 Найдите значение выражения $\frac{16}{15} \cdot \frac{4}{25} \cdot \frac{9}{5}$.

Ответ: _____.

2 Найдите значение выражения $\frac{48^{13}}{8^{14} \cdot 6^{12}}$.

Ответ: _____.

3 Число хвойных деревьев в парке относится к числу лиственных как $23 : 2$. Других деревьев в парке нет. Сколько процентов деревьев в парке составляют лиственные?

Ответ: _____.

4 Радиус окружности, описанной около треугольника, можно вычислить по формуле $R = \frac{a}{2\sin\alpha}$, где a — сторона, а α — противолежащий ей угол треугольника. Пользуясь этой формулой, найдите радиус R , если $a = 12$ и $\sin\alpha = \frac{1}{3}$.

Ответ: _____.

5 Найдите значение выражения $\frac{7}{3}\sqrt{27} \cdot \sqrt{3}$.

Ответ: _____.

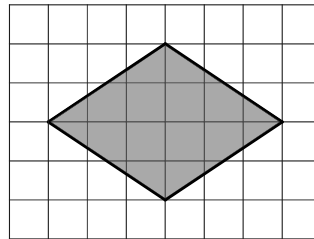
- 6 Стоимость проездного билета на месяц составляет 655 рублей, а стоимость билета на одну поездку — 25 рублей. Аня купила проездной и сделала за месяц 47 поездок. На сколько рублей больше она бы потратила, если бы покупала билеты на одну поездку?

Ответ: _____.

- 7 Решите уравнение $x^2 - 2x = 0$.
Если уравнение имеет более одного корня, в ответе укажите больший из них.

Ответ: _____.

- 8 План местности разбит на клетки. Каждая клетка обозначает квадрат $1\text{ м} \times 1\text{ м}$. Найдите площадь участка, выделенного на плане. Ответ дайте в квадратных метрах.



Ответ: _____.

- 9 Установите соответствие между величинами и их возможными значениями: к каждому элементу первого столбца подберите соответствующий элемент из второго столбца.

ВЕЛИЧИНЫ	ЗНАЧЕНИЯ
А) объём бассейна	1) 600 м^3
Б) объём воды в озере Байкал	2) 1 л
В) объём ящика для фруктов	3) 72 л
Г) объём пакета кефира	4) $23\,615,39\text{ км}^3$

В таблице под каждой буквой, соответствующей величине, укажите номер её возможного значения.

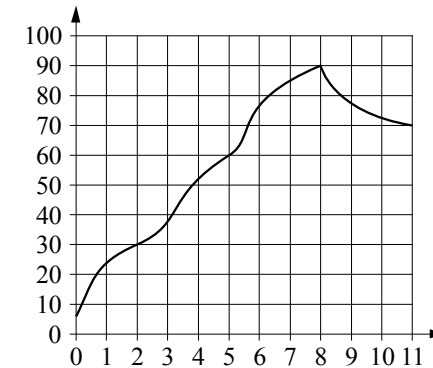
Ответ:

А	Б	В	Г

- 10 На чемпионате по прыжкам в воду выступают 50 спортсменов, среди них 9 прыгунов из России и 12 прыгунов из Китая. Порядок выступлений определяется жеребьёвкой. Найдите вероятность того, что третьим будет выступать прыгун из Китая.

Ответ: _____.

- 11 На графике изображена зависимость температуры от времени в процессе разогрева двигателя легкового автомобиля при температуре окружающего воздуха 10°C . На горизонтальной оси отмечено время в минутах, прошедшее с момента запуска двигателя, на вертикальной оси — температура двигателя в градусах Цельсия. Когда температура достигает определённого значения, включается вентилятор, охлаждающий двигатель, и температура начинает понижаться.



Определите по графику, сколько минут прошло с момента запуска двигателя до включения вентилятора.

Ответ: _____.

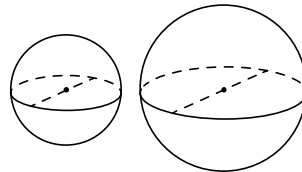
- 12** Алексей хочет купить пылесос в магазине, который находится не дальше 1,2 км от его дома. В таблице показано 6 предложений от разных магазинов и их удалённость от дома Алексея.

Номер магазина	Стоимость пылесоса (руб.)	Удалённость от дома Алексея (км)
1	5350	1,3
2	5440	2,7
3	5779	1,1
4	5299	1,5
5	5745	1,6
6	5650	0,7

Найдите наименьшую стоимость пылесоса в магазинах (из представленных), удовлетворяющих данному условию. Ответ дайте в рублях.

Ответ: _____.

- 13** Однородный шар диаметром 4 см весит 256 граммов. Сколько граммов весит шар диаметром 5 см, изготовленный из того же материала?



Ответ: _____.

- 14** Установите соответствие между функциями и характеристиками этих функций на отрезке $[0; 4]$.

ФУНКЦИИ

А) $y = -3x^2 + 7x - 7$

Б) $y = 3 - 12x$

В) $y = 2x - 6$

Г) $y = x^2 - x + 2$

ХАРАКТЕРИСТИКИ

1) функция убывает на отрезке $[0; 4]$

2) функция принимает положительное значение в каждой точке отрезка $[0; 4]$

3) функция принимает отрицательное значение в каждой точке отрезка $[0; 4]$

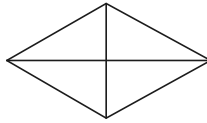
4) функция возрастает на отрезке $[0; 4]$

В таблице под каждой буквой укажите соответствующий номер.

Ответ:

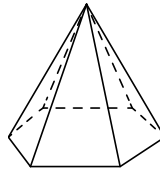
А	Б	В	Г

- 15 Сумма двух углов ромба равна 120° , а его периметр равен 68. Найдите длину меньшей диагонали ромба.



Ответ: _____.

- 16 Сторона основания правильной шестиугольной пирамиды равна 16, боковое ребро равно 17. Найдите площадь боковой поверхности этой пирамиды.



Ответ: _____.

- 17 Число m равно $\log_4 6$.

Каждому из четырёх чисел в левом столбце соответствует отрезок, которому оно принадлежит. Установите соответствие между числами и отрезками из правого столбца.

ЧИСЛА
 А) $\sqrt{m} - 1$
 Б) $\frac{3}{m}$
 В) m^2
 Г) $m - 2$

ОТРЕЗКИ
 1) $[-1; 0]$
 2) $[0; 1]$
 3) $[1; 2]$
 4) $[2; 3]$

Впишите в приведённую в ответе таблицу под каждой буквой соответствующий номер отрезка.

Ответ:

А	Б	В	Г

- 18 Тане на день рождения подарили 15 шариков, 8 из которых жёлтые, а остальные зелёные. Таня на трёх шариках нарисовала рисунки маркером, чтобы подарить маме, папе и брату. Выберите все утверждения, которые будут верны при указанных условиях независимо от того, на каких шариках Таня нарисовала рисунки.

- 1) Найдётся 2 зелёных шарика без рисунков.
- 2) Не найдётся 5 жёлтых шариков с рисунками.
- 3) Если шарик жёлтый, то на нём Таня нарисует рисунок.
- 4) Найдётся 3 жёлтых шарика с рисунками.

В ответе запишите номера выбранных утверждений без пробелов, запятых и других дополнительных символов.

Ответ: _____.

- 19 Найдите трёхзначное натуральное число, кратное 25, все цифры которого различны, а сумма квадратов цифр делится на 3, но не делится на 9. В ответе укажите какое-нибудь одно такое число.

Ответ: _____.

- 20 На ленте по разные стороны от её середины отмечены две тонкие поперечные полоски: синяя и красная. Если разрезать ленту по красной полоске, то одна часть будет на 30 см длиннее другой. Если разрезать ленту по синей полоске, то одна часть будет на 70 см длиннее другой. Найдите расстояние (в сантиметрах) между красной и синей полосками.

Ответ: _____.



Не забудьте перенести все ответы в бланк ответов № 1 в соответствии с инструкцией по выполнению работы. Проверьте, чтобы каждый ответ был записан в строке с номером соответствующего задания.

Единый государственный экзамен по МАТЕМАТИКЕ

Базовый уровень

Справочные материалы

Алгебра

Таблица квадратов целых чисел от 0 до 99

Десятки	Единицы									
	0	1	2	3	4	5	6	7	8	9
0	0	1	4	9	16	25	36	49	64	81
1	100	121	144	169	196	225	256	289	324	361
2	400	441	484	529	576	625	676	729	784	841
3	900	961	1024	1089	1156	1225	1296	1369	1444	1521
4	1600	1681	1764	1849	1936	2025	2116	2209	2304	2401
5	2500	2601	2704	2809	2916	3025	3136	3249	3364	3481
6	3600	3721	3844	3969	4096	4225	4356	4489	4624	4761
7	4900	5041	5184	5329	5476	5625	5776	5929	6084	6241
8	6400	6561	6724	6889	7056	7225	7396	7569	7744	7921
9	8100	8281	8464	8649	8836	9025	9216	9409	9604	9801

Свойства арифметического квадратного корня

$$\sqrt{ab} = \sqrt{a} \cdot \sqrt{b} \text{ при } a \geq 0, b \geq 0 \quad \sqrt{\frac{a}{b}} = \frac{\sqrt{a}}{\sqrt{b}} \text{ при } a \geq 0, b > 0$$

Корни квадратного уравнения $ax^2 + bx + c = 0, a \neq 0$

$$x_1 = \frac{-b - \sqrt{b^2 - 4ac}}{2a}, \quad x_2 = \frac{-b + \sqrt{b^2 - 4ac}}{2a} \text{ при } b^2 - 4ac > 0$$

$$x = -\frac{b}{2a} \text{ при } b^2 - 4ac = 0$$

Формулы сокращённого умножения

$$(a + b)^2 = a^2 + 2ab + b^2$$

$$(a - b)^2 = a^2 - 2ab + b^2$$

$$a^2 - b^2 = (a + b)(a - b)$$

Степень и логарифм

Свойства степени при $a > 0, b > 0$

$$a^{-n} = \frac{1}{a^n}$$

$$a^n \cdot a^m = a^{n+m}$$

$$\frac{a^n}{a^m} = a^{n-m}$$

$$(a^n)^m = a^{nm}$$

$$(ab)^n = a^n \cdot b^n$$

$$\left(\frac{a}{b}\right)^n = \frac{a^n}{b^n}$$

Свойства логарифма при $a > 0, a \neq 1, b > 0, x > 0, y > 0$

$$a^{\log_a b} = b$$

$$\log_a a = 1$$

$$\log_a 1 = 0$$

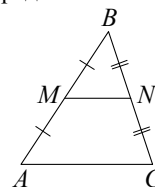
$$\log_a (xy) = \log_a x + \log_a y$$

$$\log_a \left(\frac{x}{y}\right) = \log_a x - \log_a y$$

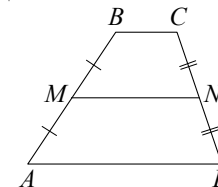
$$\log_a b^k = k \log_a b$$

Геометрия

Средняя линия треугольника и трапеции

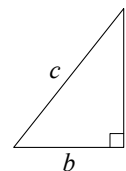


MN — ср. лин.
 $MN \parallel AC$
 $MN = \frac{AC}{2}$



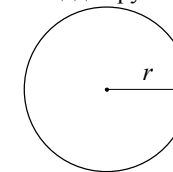
$BC \parallel AD$
 MN — ср. лин.
 $MN \parallel AD$
 $MN = \frac{BC + AD}{2}$

Теорема Пифагора

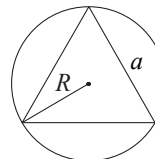


$$a^2 + b^2 = c^2$$

Длина окружности $C = 2\pi r$
 Площадь круга $S = \pi r^2$

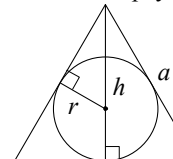


Описанная и вписанная окружности правильного треугольника



$$R = \frac{a\sqrt{3}}{3}$$

$$S = \frac{a^2\sqrt{3}}{4}$$

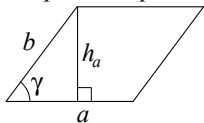


$$r = \frac{a\sqrt{3}}{6}$$

$$h = \frac{a\sqrt{3}}{2}$$

Площади фигур

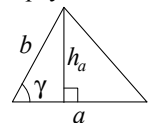
Параллелограмм



$$S = ah_a$$

$$S = ab \sin \gamma$$

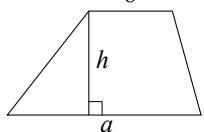
Треугольник



$$S = \frac{1}{2} ah_a$$

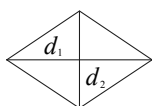
$$S = \frac{1}{2} ab \sin \gamma$$

Трапеция



$$S = \frac{a+b}{2} \cdot h$$

Ромб

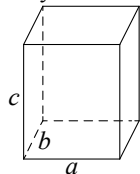


d_1, d_2 – диагонали

$$S = \frac{1}{2} d_1 d_2$$

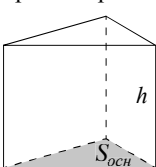
Площади поверхностей и объёмы тел

Прямоугольный параллелепипед



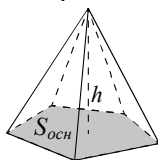
$$V = abc$$

Прямая призма



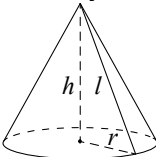
$$V = S_{осн} h$$

Пирамида



$$V = \frac{1}{3} S_{осн} h$$

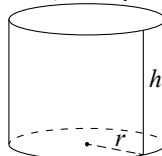
Конус



$$V = \frac{1}{3} \pi r^2 h$$

$$S_{бок} = \pi r l$$

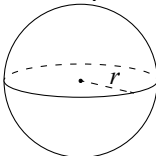
Цилиндр



$$V = \pi r^2 h$$

$$S_{бок} = 2\pi r h$$

Шар

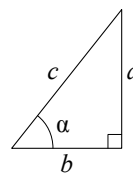


$$V = \frac{4}{3} \pi r^3$$

$$S = 4\pi r^2$$

Тригонометрические функции

Прямоугольный треугольник

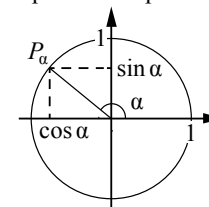


$$\sin \alpha = \frac{a}{c}$$

$$\cos \alpha = \frac{b}{c}$$

$$\operatorname{tg} \alpha = \frac{a}{b}$$

Тригонометрическая окружность



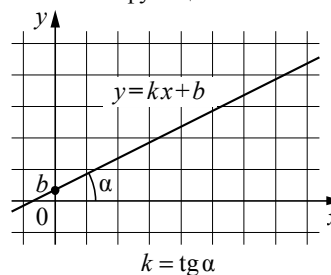
Основное тригонометрическое тождество: $\sin^2 \alpha + \cos^2 \alpha = 1$

Некоторые значения тригонометрических функций

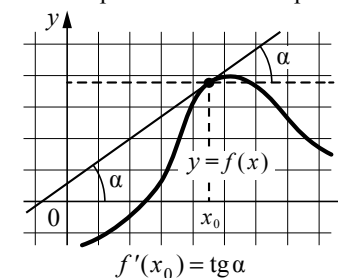
α	радианы	0	$\frac{\pi}{6}$	$\frac{\pi}{4}$	$\frac{\pi}{3}$	$\frac{\pi}{2}$	π	$\frac{3\pi}{2}$	2π
	градусы	0°	30°	45°	60°	90°	180°	270°	360°
$\sin \alpha$		0	$\frac{1}{2}$	$\frac{\sqrt{2}}{2}$	$\frac{\sqrt{3}}{2}$	1	0	-1	0
$\cos \alpha$		1	$\frac{\sqrt{3}}{2}$	$\frac{\sqrt{2}}{2}$	$\frac{1}{2}$	0	-1	0	1
$\operatorname{tg} \alpha$		0	$\frac{\sqrt{3}}{3}$	1	$\sqrt{3}$	—	0	—	0

Функции

Линейная функция



Геометрический смысл производной



Ответы к заданиям

№ задания	Ответ
1	14
2	1,5
3	66
4	15
5	15
6	610
7	5
8	4
9	4123
10	0,32
11	1000
12	5299
13	128
14	4132
15	21
16	1008
17	3412
18	14 <или> 41
19	120 <или> 180 <или> 240 <или> 360 <или> 420 <или> 480 <или> 840
20	15

Ответы к заданиям

№ задания	Ответ
1	12
2	0,75
3	8
4	18
5	21
6	520
7	2
8	12
9	1432
10	0,24
11	8
12	5650
13	500
14	3142
15	17
16	720
17	2431
18	12 <или> 21
19	125 <или> 725 <или> 825 <или> 175 <или> 275 <или> 875
20	50