

Ассоциация научно-технических организаций "Уральский профессиональный форум"
Автономная некоммерческая профессиональная образовательная организация
"Современный цифровой колледж при Западно-Уральском институте экономики и права"
(АНПОО "СЦК при ЗУИЭП")

Рекомендовано к утверждению
на заседании Педагогического совета
АНПОО "СЦК при ЗУИЭП"
(протокол № 9 от 07.04.2023)

«Утверждаю»
Директор АНПОО "СЦК при ЗУИЭП"



/И.И. Лобанова/

**ОЦЕНОЧНЫЕ СРЕДСТВА
ДЛЯ ПРОВЕДЕНИЯ ПРОМЕЖУТОЧНОЙ АТТЕСТАЦИИ**
по предмету
«БП.11 ФИЗИКА»

по профессии
09.01.03 Оператор информационных систем и ресурсов
квалификация «Оператор информационных систем и ресурсов»

форма обучения: очная

Пермь, 2023

1. ПАСПОРТ КОМПЛЕКТА ОЦЕНОЧНЫХ СРЕДСТВ

Предметом оценки на зачете являются следующие результаты студента, который умеет:

анализировать физические процессы и явления, используя физические законы и принципы: закон всемирного тяготения, I, II и III законы Ньютона, закон сохранения механической энергии, закон сохранения импульса, принцип суперпозиции сил, принцип равноправия инерциальных систем отсчета, молекулярно-кинетическую теорию строения вещества, газовые законы, связь средней кинетической энергии теплового движения молекул с абсолютной температурой, первый закон термодинамики, закон сохранения электрического заряда, закон Кулона, при этом различать словесную формулировку закона, его математическое выражение и условия (границы, области) применимости; а также анализировать физические процессы и явления, используя физические законы и принципы: закон Ома, законы последовательного и параллельного соединения проводников, закон Джоуля-Ленца, закон электромагнитной индукции, закон прямолинейного распространения света, законы отражения света, законы преломления света, уравнение Эйнштейна для фотоэффекта, закон сохранения энергии, закон сохранения импульса, закон сохранения электрического заряда, закон сохранения массового числа, постулаты Бора, закон радиоактивного распада, при этом различать словесную формулировку закона, его математическое выражение и условия (границы, области) применимости;

выполнять эксперименты по исследованию физических явлений и процессов с использованием прямых и косвенных измерений: при этом формулировать проблему/задачу и гипотезу учебного эксперимента, собирать установку из предложенного оборудования, проводить опыт и формулировать выводы;

демонстрировать на примерах роль и место физики в формировании современной научной картины мира, в развитии современной техники и технологий, в практической деятельности людей, целостность и единство физической картины мира;

использовать при решении учебных задач современные информационные технологии для поиска, структурирования, интерпретации и представления учебной и научно-популярной информации, полученной из различных источников, критически анализировать получаемую информацию;

использовать теоретические знания по физике в повседневной жизни для обеспечения безопасности при обращении с приборами и техническими устройствами, для сохранения здоровья и соблюдения норм экологического поведения в окружающей среде;

исследовать зависимости физических величин с использованием прямых измерений: при этом конструировать установку, фиксировать результаты полученной зависимости физических величин в виде таблиц и графиков, делать выводы по результатам исследования;

объяснять принципы действия машин, приборов и технических устройств, различать условия их безопасного использования в повседневной жизни;

описывать изученные квантовые явления и процессы, используя физические величины: скорость электромагнитных волн, длина волны и частота света, энергия и импульс фотона, период полураспада, энергия связи атомных ядер, при описании правильно трактовать физический смысл используемых величин, их обозначения и единицы, указывать формулы, связывающие данную физическую величину с другими величинами, вычислять значение физической величины;

описывать изученные свойства вещества (электрические, магнитные, оптические, электрическую проводимость различных сред) и электромагнитные явления (процессы), используя физические величины: электрический заряд, сила тока, электрическое напряжение, электрическое сопротивление, разность потенциалов, электродвижущая сила, работа тока, индукция магнитного поля, сила Ампера, сила Лоренца, индуктивность катушки, энергия электрического и магнитного полей, период и частота колебаний в колебательном контуре,

заряд и сила тока в процессе гармонических электромагнитных колебаний, фокусное расстояние и оптическая сила линзы, при описании правильно трактовать физический смысл используемых величин, их обозначения и единицы, указывать формулы, связывающие данную физическую величину с другими величинами;

определять направление вектора индукции магнитного поля проводника с током, силы Ампера и силы Лоренца;

осуществлять прямые и косвенные измерения физических величин, при этом выбирать оптимальный способ измерения и использовать известные методы оценки погрешностей измерений;

приводить примеры вклада российских и зарубежных ученых-физиков в развитие науки, в объяснение процессов окружающего мира, в развитие техники и технологий;

работать в группе с выполнением различных социальных ролей, планировать работу группы, рационально распределять обязанности и планировать деятельность в нестандартных ситуациях, оценивать вклад каждого из участников группы в решение рассматриваемой проблемы.

распознавать физические явления (процессы) и объяснять их на основе законов электродинамики и квантовой физики: электрическая проводимость, тепловое, световое, химическое, магнитное действия тока, взаимодействие магнитов, электромагнитная индукция, действие магнитного поля на проводник с током и движущийся заряд, электромагнитные колебания и волны, прямолинейное распространение света, отражение, преломление, интерференция, дифракция и поляризация света, дисперсия света, фотоэлектрический эффект (фотоэффект), световое давление, возникновение линейчатого спектра атома водорода, естественная и искусственная радиоактивность;

решать качественные задачи: выстраивать логически непротиворечивую цепочку рассуждений с использованием изученных законов, закономерностей и физических явлений;

решать расчетные задачи с явно заданной физической моделью, используя физические законы и принципы, на основе анализа условия задачи выбирать физическую модель, выделять физические величины и формулы, необходимые для ее решения, проводить расчеты и оценивать реальность полученного значения физической величины;

соблюдать правила безопасного труда при проведении исследований в рамках учебного эксперимента, учебно-исследовательской и проектной деятельности с использованием измерительных устройств и лабораторного оборудования;

строить и описывать изображение, создаваемое плоским зеркалом, тонкой линзой;

учитывать границы применения изученных физических моделей: материальная точка, инерциальная система отсчета, абсолютно твердое тело, идеальный газ, модели строения газов, жидкостей и твердых тел, точечный электрический заряд, луч света, точечный источник света, ядерная модель атома, нуклонная модель атомного ядра при решении физических задач;

2. КОМПЛЕКТ КОНТРОЛЬНО-ИЗМЕРИТЕЛЬНЫХ МАТЕРИАЛОВ

Пояснительная записка к итоговому тестированию по физике для промежуточной аттестации

Итоговое тестирование представлено в двух вариантах и рассчитано на 90 минут .

Работа состоит из 22 заданий, которые разделены на три части.

Часть 1 содержит 22 задания (A1-A17). К каждому заданию даны 4 варианта ответов, из которых только один верный. Каждое задание оценивается в 1 балл.

Часть 2 (B1-B2) содержит задания, в которых необходимо записать ответ в виде набора цифр. Каждое правильно выполненное задание части 2 оценивается в 1 балл.

Часть 3 содержит 3 задачи (C1-C3), которые требуют полного ответа. Каждая задача оценивается в 2 балла.

Содержание заданий включает основные понятия, законы и явления, необходимые для усвоения изученного материала.

Итоговое тестирование по физике

1 вариант

Часть 1

A1. Какое тело из перечисленных ниже оставляет видимую траекторию?

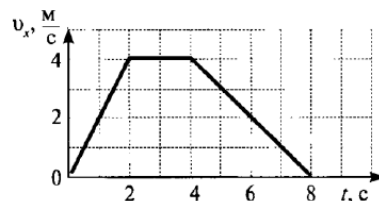
- 1) Камень, падающий в горах 2) Мяч во время игры 3) Лыжник, прокладывающий новую трассу
4) Легкоатлет, совершающий прыжок в высоту

A2. Во время подъема в гору скорость велосипедиста, двигающегося прямолинейно и равноускоренно, изменилась за 8 с от 5 м/с до 3 м/с. При этом ускорение велосипедиста было равно

- 1) $-0,25 \text{ м/с}^2$ 2) $0,25 \text{ м/с}^2$ 3) $-0,9 \text{ м/с}^2$ 4) $0,9 \text{ м/с}^2$

A3. На рисунке представлен график зависимости проекции скорости тела от времени. Какой путь прошло тело за интервал времени от 2 до 8 с?

- 1) 32 м 2) 20 м 3) 16 м 4) 8 м



A4. Точка движется с постоянной по модулю скоростью по окружности радиуса R. Как изменится центростремительное ускорение точки, если ее скорость увеличить вдвое, а радиус окружности вдвое уменьшить?

- 1) уменьшится в 2 раза 2) увеличится в 4 раза 3) увеличится в 2 раза
4) увеличится в 8 раз

A5. Какое ускорение приобретает тело массой 5 кг под действием силы 20 Н?

- 1) $0,25 \text{ м/с}^2$ 2) 4 м/с^2 3) $2,5 \text{ м/с}^2$ 4) 50 м/с^2

A6. Человек вез двух одинаковых детей на санках по горизонтальной дороге. Затем с санок встал один ребенок, но человек продолжал движение с той же постоянной скоростью. Как изменилась сила трения при этом?

- 1) не изменилась 2) увеличилась в 2 раза 3) уменьшилась в 2 раза 4) увеличилась на 50%

A7. Тело массой 2 кг движется со скоростью 3 м/с. Каков импульс тела?

- 1) $5 \text{ кг}\cdot\text{м/с}$ 2) $6 \text{ кг}\cdot\text{м/с}$ 3) $1 \text{ кг}\cdot\text{м/с}$ 4) $18 \text{ кг}\cdot\text{м/с}$

A8. Хоккейная шайба массой 160 г летит со скоростью 36 км/ч. Какова ее кинетическая энергия?

- 1) 1,6 Дж, 2) 104 Дж, 3) 0,8 Дж, 4) 8 Дж

A9. Диффузия в твердых телах происходит медленнее, чем в газах, так как

- 1) молекулы твердого тела тяжелее, чем молекулы газа
2) молекулы твердого тела больше, чем молекулы газа,
3) молекулы твердого тела менее подвижны, чем молекулы газа
4) молекулы твердого тела взаимодействуют слабее, чем молекулы газа

A10. Как изменилось давление идеального газа, если в данном объеме скорость каждой молекулы уменьшилась в 2 раза, а концентрация осталась неизменной?

- 1) увеличилось в 4 раза, 2) увеличилось в 2 раза, 3) не изменилось, 4) уменьшилось в 4 раза

A11. Какое из приведенных ниже выражений соответствует формуле количества вещества?

- 1) $\frac{M}{N_A}$ 2) $\frac{M}{m_0}$ 3) $\frac{N}{N_A}$ 4) $v \cdot N_A$

A12. Воздух в комнате состоит из смеси газов: водорода, кислорода, азота, водяных паров, углекислого газа и др. Какой из физических параметров этих газов обязательно одинаков при тепловом равновесии?

- 1) давление 2) температура 3) концентрация 4) плотность

A13. Газ совершил работу 400 Дж, и при этом его внутренняя энергия уменьшилась на 100 Дж. В этом процессе газ

- 1) получил количество теплоты 500 Дж 2) получил количество теплоты 300 Дж
3) отдал количество теплоты 500 Дж 4) отдал количество теплоты 300 Дж

A14. От водяной капли, обладавшей зарядом +q, отделилась капля с электрическим зарядом -q. Каким стал заряд оставшейся капли?

- 1) +2q 2) +q 3) -q 4) -2q

A15. Два точечных заряда притягиваются друг к другу только в том случае, если заряды

- 1) одинаковы по знаку и по модулю
2) одинаковы по знаку, но обязательно различны по модулю
3) различны по знаку и любые по модулю
4) различны по знаку, но обязательно одинаковы по модулю

A16. Напряжение на концах резистора равно 60 В, сила тока в резисторе равна 3 А. Чему равно сопротивление резистора?

- 1) 0,04 Ом 2) 0,05 Ом 3) 20 Ом 4) 180 Ом

A17. ЭДС источника равна 8 В, внешнее сопротивление 3 Ом, внутреннее сопротивление 1 Ом. Сила тока в полной цепи равна

- 1) 32 А 2) 25 А 3) 2 А 4) 0,5 А

Часть 2

B1. Во время ремонта электроплитки укоротили ее спираль. Как изменились при этом сопротивление спирали, сила тока и мощность электроплитки? Напряжение в сети остается неизменным.

К каждой позиции первого столбца подберите соответствующую позицию второго столбца и запишите в таблицу.

Физическая величина	Изменение величины
А) сопротивление спирали	1) увеличится
Б) сила тока в спирали	2) уменьшается
В) выделяющаяся мощность	3) не изменится

В2. Поставьте в соответствие физическую величину и единицу ее измерения в СИ.

Физическая величина	Единица величины
А) скорость	1) м/с^2
Б) путь	2) $\text{кг}\cdot\text{м/с}$
В) импульс	3) $\text{кг}\cdot\text{м/с}^2$
Г) ускорение	4) м/с
	5) м

К каждой позиции первого столбца подберите соответствующую позицию второго столбца и запишите в таблицу.

Часть 3

С1. Два неподвижных заряда 0,5 нКл и 4 нКл находятся в вакууме на расстоянии 6 см друг от друга. Чему равна кулоновская сила взаимодействия между ними?

С2. Автомобиль массой 2 т движется по выпуклому мосту, имеющему радиус кривизны 200 м, со скоростью 36 км/ч. Найдите силу нормального давления в верхней точке траектории.

С3. Тележка массой 2 кг, движущаяся со скоростью 3 м/с, сталкивается с неподвижной тележкой массой 4 кг и сцепляется с ней. Чему будет равна скорость обеих тележек после взаимодействия?

Итоговое тестирование по физике за курс 10 класса

2 вариант

Часть 1

А1. Исследуется перемещение бабочки и лошади. Модель материальной точки может использоваться для описания движения

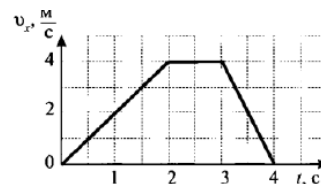
- 1) только лошади 2) только бабочки 3) и лошади, и бабочки
4) ни лошади, ни бабочки

А2. Санки съехали с одной горки и въехали на другую. Во время подъема на горку скорость санок, двигавшихся прямолинейно и равноускоренно, за 4 с изменилась от 43,2 км/ч до 7,2 км/ч. При этом модуль ускорения был равен

- 1) $-2,5 \text{ м/с}^2$ 2) $2,5 \text{ м/с}^2$ 3) $3,5 \text{ м/с}^2$ 4) $-3,5 \text{ м/с}^2$

А3. На рисунке представлен график зависимости проекции скорости тела от времени. Какой путь прошло тело за интервал времени от 0 до 3 с?

- 1) 32 м 2) 20 м 3) 16 м 4) 8 м



А4. Материальная точка движется по окружности с постоянной по модулю скоростью. Как изменится модуль ее центростремительного ускорения, если скорость точки увеличить в 2 раза?

- 1) не изменится 2) уменьшится в 2 раза 3) увеличится в 4 раза 4) уменьшится в 4 раза

А5. Легкоподвижную тележку массой 3 кг толкают с силой 6 Н. Ускорение тележки в инерциальной системе отсчета равно

- 1) 18 м/с^2 2) $1,67 \text{ м/с}^2$ 3) 2 м/с^2 4) $0,5 \text{ м/с}^2$

А6. Человек вез ребенка на санках по горизонтальной дороге. Затем на санки сел второй такой же ребенок, но человек продолжал движение с той же постоянной скоростью. Как изменилась сила трения при этом?

- 1) не изменилась
- 2) увеличилась в 2 раза
- 3) уменьшилась в 2 раза
- 4) увеличилась на 50%

А7. Тело массой 4 кг движется со скоростью 3 м/с. Каков импульс тела?

- 1) 1 кг·м/с
- 2) 0,75 кг·м/с
- 3) 24 кг·м/с
- 4) 12 кг·м/с

А8. Мальчик подбросил футбольный мяч массой 0,4 кг на высоту 3 м. На сколько изменилась потенциальная энергия мяча?

- 1) 4 Дж
- 2) 12 Дж
- 3) 1,2 Дж
- 4) 7,5 Дж

А9. Какое явление доказывает, что между молекулами действуют силы отталкивания?

- 1) диффузия,
- 2) броуновское движение,
- 3) смачивание,
- 4) существование сил упругости

А10. Внутренняя энергия тела зависит

- 1) только от скорости тела
- 2) только от положения этого тела относительно других тел
- 3) только от температуры тела
- 4) от температуры и объема тела

А11. Что определяет произведение $\frac{3}{2}kT$?

- 1) давление идеального газа
- 2) абсолютную температуру идеального газа
- 3) внутреннюю энергию идеального газа
- 4) среднюю кинетическую энергию молекулы

А12. Температура тела А равна 300 К, температуры тела Б равна 100 °С. Температура какого из тел повысится при тепловом контакте?

- 1) тела А
- 2) тела Б
- 3) температуры тел не изменяются
- 4) температуры тел могут только понижаться

А13. Идеальный газ получил количество теплоты 300 Дж, и внутренняя энергия газа увеличилась на 100 Дж. При этом

- 1) газ совершил работу 400 Дж
- 2) газ совершил работу 200 Дж
- 3) над газом совершили работу 400 Дж
- 4) над газом совершили работу 100 Дж

А14. К водяной капле, имевшей заряд $+3e$, присоединилась капля с зарядом $-4e$. Каким стал электрический заряд объединенной капли?

- 1) $+e$
- 2) $+7e$
- 3) $-e$
- 4) $-7e$

А15. При расчесывании волос пластмассовой расческой волосы заряжаются положительно. Это объясняется тем, что

- 1) электроны переходят с расчески на волосы
- 2) протоны переходят с расчески на волосы
- 3) электроны переходят с волос на расческу
- 4) протоны переходят с волос на расческу

А16. Сила тока, идущего по проводнику, равна 2 А. Какой заряд пройдет по проводнику за 10 с?

- 1) 0,2 Кл
- 2) 5 Кл
- 3) 20 Кл
- 4) 2 Кл

- A17. Электрическая цепь состоит из источника тока внутренним сопротивлением 1 Ом с ЭДС, равной 10 В, резистора сопротивлением 4 Ом. Сила тока в цепи равна
1) 2 А 2) 2,5 А 3) 10 А 4) 50 А

Часть 2

B1. К концам длинного однородного проводника приложено напряжение U . Провод заменили на другой, площадь сечения которого в 2 раза больше, и приложили к нему прежнее напряжение. Что произойдет при этом с сопротивлением проводника, силой тока и мощностью?

К каждой позиции первого столбца подберите соответствующую позицию второго и запишите в таблицу.

Физическая величина	Изменение величины
А) сопротивление спирали	1) увеличится
Б) сила тока в спирали	2) уменьшается
В) выделяющаяся мощность	3) не изменится

B2. Поставьте в соответствие физическую величину и единицу ее измерения в СИ.

Физическая величина	Единица величины
А) плотность	1) м/с ²
Б) ускорение	2) кг·м/с ²
В) сила	3) кг/м ³
Г) объем	4) м/с
	5) м ³

К каждой позиции первого столбца подберите соответствующую позицию второго и запишите в таблицу.

Часть 3

- C1. Два неподвижных точечных заряда 4 нКл и 6 нКл, находясь на расстоянии R друг от друга, взаимодействуют с силой $F = 135$ Н. Чему равно расстояние R ?
- C2. Автомобиль массой 3 т движется по выпуклому мосту, имеющему радиус кривизны 300 м, со скоростью 54 км/ч. Найдите силу нормального давления в верхней точке траектории.
- C3. Человек массой 70 кг прыгнул с берега в неподвижную лодку, находящуюся у берега, со скоростью 6 м/с. С какой скоростью станет двигаться лодка вместе с человеком, если масса лодки 35 кг?

Бланк ответов

Фамилия, имя _____

вариант _____

Часть 1

1	2	3	4	5	6	7	8	9	10	11	12	13	14	15	16	17

Часть 2

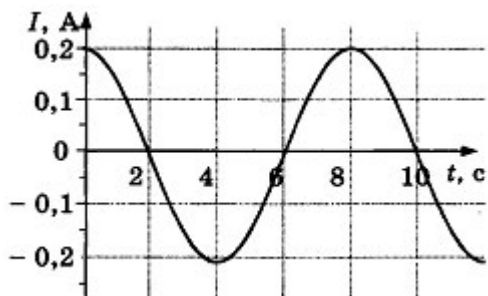
В1						В2				
А	Б		В			А	Б		В	Г

Ключи к итоговому тесту за 10 класс:

№ задания	1	2	3	4	5	6	7	8	9	10	11	12	13	14	15	16	17	18	19	20	21	22
№ ответа (1 вар)	3	1	3	4	2	3	2	4	5	4	3	2	2	1	3	3	3	211	4521	$5 \cdot 10^{-6}$	19 кН	1 м/с
№ ответа (2 вар)	3	1	4	3	3	2	4	2	4	1	4	1	2	3	3	3	1	211	3125	10	28кН	4 м/с

Шкала для перевода числа правильных ответов в оценку по пятибалльной шкале:

Число правильных ответов	0 - 10	11-15	16-18	19-22
Оценка в баллах	2	3	4	5



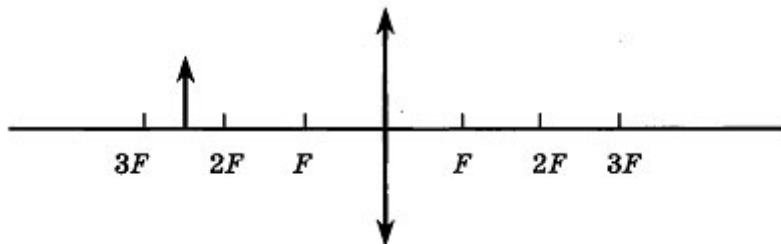
- 1) 8 Гц
- 2) 0,125 Гц
- 3) 6 Гц
- 4) 4 Гц

9. Расстояние между ближайшими гребнями волн 10м. Какова частота ударов волн о корпус, если скорость волн 3 м/с ?

10. Луч света падает на плоское зеркало. Угол

отражения равен 24° . Угол между падающим лучом и зеркалом....

11. Если предмет находится от собирающей линзы на расстоянии больше двойного фокусного расстояния, то его изображение будет...



12. Какое оптическое явление объясняет радужную окраску мыльных пузырей?

- 1) Дисперсия
- 2) Дифракция
- 3) Интерференция
- 4) Поляризация

13. Непрерывные (сплошные) спектры дают тела, находящиеся

А. только в твердом состоянии при очень больших температурах;

Б. в газообразном молекулярном состоянии, в котором молекулы не связаны или слабо связаны друг с другом;

В. в газообразном атомарном состоянии, в котором атомы практически не взаимодействуют друг с другом;

Г. в твердом или жидком состоянии, а также сильно сжатые газы

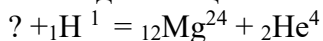
14. Какое из перечисленных ниже электромагнитных излучений имеет наибольшую частоту?

- А. Радиоволны.
- Б. Инфракрасное излучение.
- В. Видимое излучение.
- Г. Ультрафиолетовое излучение.
- Д. Рентгеновское излучение.

15. Какое из приведенных ниже выражений определяет понятие дисперсия?

- А. Наложение когерентных волн.
- Б. Разложение света в спектр при преломлении.
- В. Преобразование естественного света в плоскополяризованный.
- Г. Огибание волной препятствий.
- Д. Частичное отражение света на разделе двух сред.

16. Написать недостающие обозначения в следующей ядерной реакции:



17. Атом натрия ${}_{11}\text{Na}^{23}$ содержит

- 1) 11 протонов, 23 нейтрона и 34 электрона
- 2) 23 протона, 11 нейтронов и 11 электронов
- 3) 12 протонов, 11 нейтронов и 12 электронов
- 4) 11 протонов, 12 нейтронов и 11 электронов

18. Определите, какие из реакций называют термоядерными

- А. Реакции деления легких ядер
- Б. Реакции деления тяжелых ядер
- В. Реакции синтеза между легкими ядрами
- Г. Реакции синтеза между тяжелыми ядрами

Вариант №2

1. По катушке протекает ток, создающий магнитное поле энергией 5 Дж. Магнитный поток через катушку 10 Вб. Найти силу тока
2. Определите силу тока, проходящего по прямолинейному проводнику, перпендикулярному однородному магнитному полю, если на активную часть проводника длиной 10 см действует сила в 50 Н при магнитной индукции 20 Тл.

3. Установить соответствие:

- | | |
|-----------------------|-------|
| А. Магнитная индукция | 1. Гн |
| Б. Индуктивность | 2. Тл |
| В. Магнитный поток | 3. А |
| | 4. Вб |

4. Один раз полосовой магнит падает сквозь неподвижное металлическое кольцо южным полюсом вниз, второй раз северным полюсом вниз. Ток в кольце

- возникает в обоих случаях
- не возникает ни в одном из случаев
- возникает только в первом случае
- возникает только во втором случае

5. Чему равно изменение магнитного потока в контуре за 0,04с, если при этом возникла ЭДС индукции 8В?

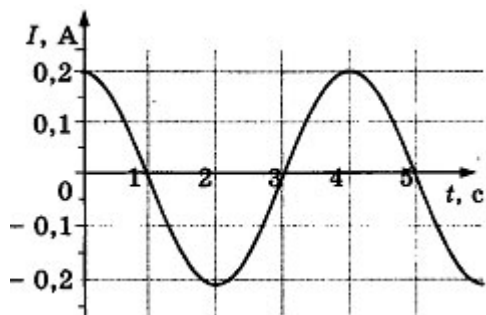
6. Индукционный ток возникает в любом замкнутом проводящем контуре, если:

- 1) Контур находится в однородном магнитном поле;
- 2) Контур движется поступательно в однородном магнитном поле;
- 3) Изменяется магнитный поток, пронизывающий контур.

7. Как изменится период малых колебаний математического маятника, если его длину увеличить в 4 раза?

- | | |
|------------------------|------------------------|
| 1) увеличится в 4 раза | 3) уменьшится в 4 раза |
| 2) увеличится в 2 раза | 4) уменьшится в 2 раза |

8. На рисунке показан график зависимости силы тока в металлическом проводнике от времени. Определите амплитуду колебаний тока

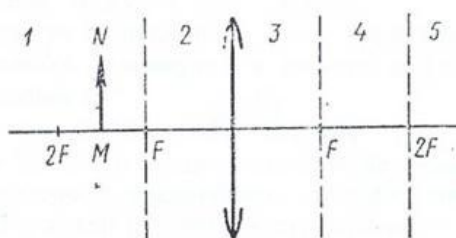


- 1) 0,4 А
- 2) 0,2 А
- 3) 0,25 А
- 4) 4 А

9. Динамик подключен к выходу звукового генератора. Частота колебаний 170 Гц. Определите длину звуковой волны в воздухе, зная, что скорость звуковой волны в воздухе 340 м/с.

10. Луч света падает на плоское зеркало. Угол отражения равен 12° . Угол между падающим лучом и зеркалом...

11. На рисунке показано положение линзы, ее главной оптической оси, главных фокусов и предмета MN, то его изображение будет...



12. Какое явление доказывает, что свет — это поперечная волна?

- 1) Дисперсия
- 2) Дифракция
- 3) Интерференция
- 4) Поляризация

13. Вещество в газообразном атомарном состоянии дает:

- | | |
|---------------------------------|--------------------------------|
| А. непрерывный спектр излучения | В. полосатый спектр излучения |
| Б. линейчатый спектр излучения | Г. сплошной спектр поглощения |
| | Д. полосатый спектр поглощения |

14. Спектральный анализ позволяет определить:

- | | |
|--------------------------------|----------------------|
| А. химический состав вещества; | Г. массу тела; |
| Б. скорость движения тела; | Д. температуру тела; |
| В. объем тела; | Е. давление воздуха. |

15. Генератор ВЧ работает на частоте 150 МГц. Длина волны электромагнитного излучения равна...

16. Какое из трех типов излучений (α -, β - или γ -излучение) обладает наибольшей проникающей способностью?

- 1) α -излучение
- 2) β -излучение
- 3) γ -излучение
- 4) все примерно в одинаковой степени

17. опыты Э. Резерфорда по рассеянию α -частиц показали, что

А. почти вся масса атома сосредоточена в ядре.

Б. ядро имеет положительный заряд.

Какое(-ие) из утверждений правильно(-ы)?

- 1) только А
- 2) только Б
- 3) и А, и Б
- 4) ни А, ни Б

18. Атом магния ${}_{12}\text{Mg}^{24}$ содержит...
протонов-... ; нейтронов-....; электронов-...

Ответы :

№ задания	Ответы:		Кол-во баллов
	Вариант №1	Вариант №2	
1.	0,1Н	1А	36
2.	0,02 Гн(20мГн)	25А	36
3.	214	214	26
4.	3	1	16
5.	40В	0,32 В6	26
6.	2	3	16
7.	2	2	26
8.	0,125 Гц	0,2А	16
9.	0,3Гц	2м	26
10.	66°	78°	26
11.	Уменьшенным, обратным и действительным	0,75м	36
12.	1	4	16
13.	Г	Б	16
14.	Д	А	16
15.	Б	2м	26
16.	${}_{13}\text{Al}$	3	16
17.	4	3	16
18.	В	12; 12; !2	16